





3. Trouvez au moins une contrainte climatique pour chaque habitation. Quelles sont les solutions techniques utilisées pour répondre à ces contraintes.

Habitations	Contraintes	Solutions techniques

4. Précisez si les objets techniques ci-dessous sont des machines ou des outils. Pour quelles habitations ont-ils pu être utilisés lors de leurs constructions ?

 <p>Une pioche</p>	 <p>Une pelleteuse</p>	 <p>Une pelle</p>	 <p>Un marteau-piqueur</p>

Les matériaux utilisés ?

Pour chaque image A, B, C, D

Indiquer les différents matériaux utilisés et justifier les choix de ces matériaux.

Document réalisé par

5°