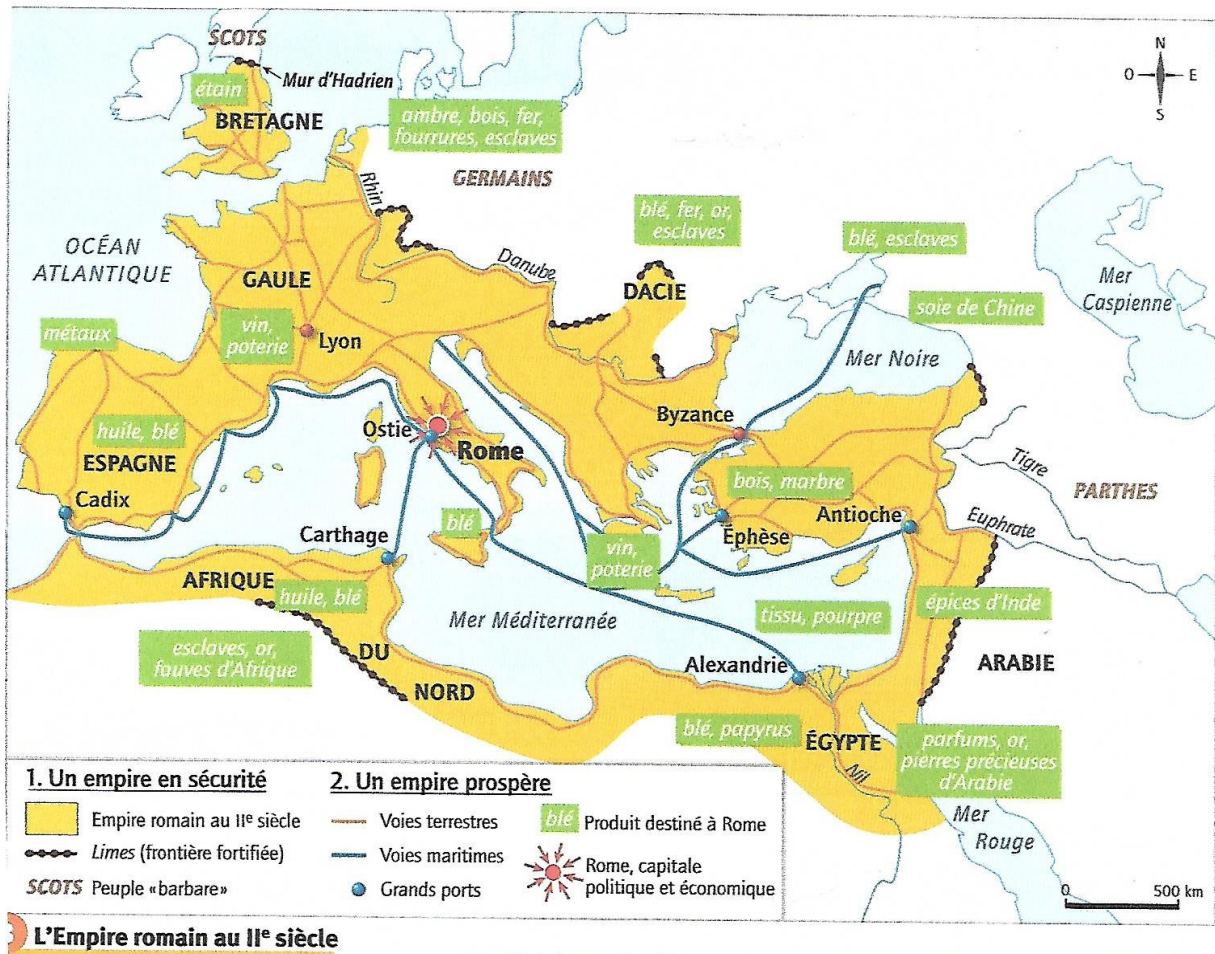


Travail sur le monde romain sous l'Empire (Ier et II e siècle)

Après la victoire d'Octave-Auguste en 31 av JC contre Cléopâtre et Marc Antoine à Actium, la République romaine devient un empire gigantesque et va connaître plusieurs siècles de paix qui vont favoriser le commerce et les échanges.

Partie 1 : Un empire gigantesque.



1) Autour de quelle mer s'organise l'Empire romain ? Quelle est sa capitale ?

- 2) Citer plusieurs provinces de l'empire romain. Comment appelle-t-on la France à l'époque ?

- 3) Quels peuples appelés barbares sont rejetés à l'extérieur de l'empire ?

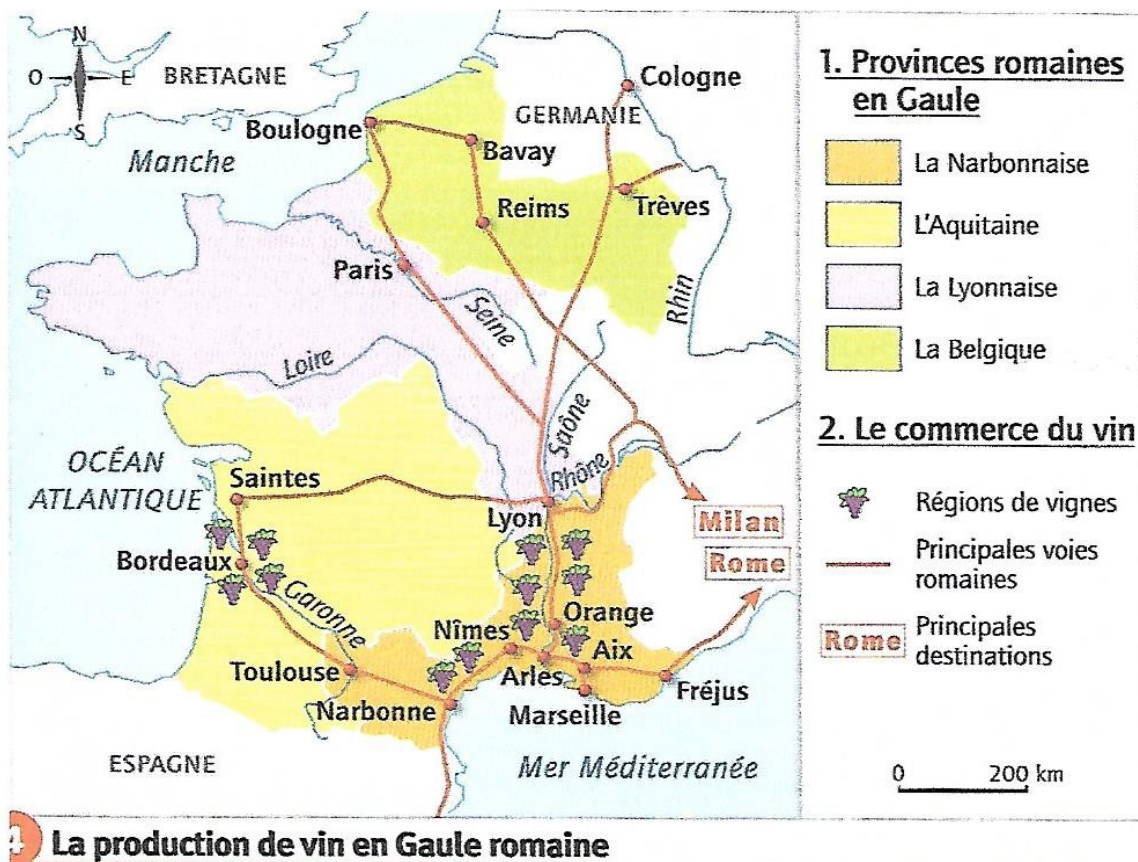
- 4) Quelles sont les deux types de route ou de voie qui vont favoriser les échanges ?

- 5) Citer plusieurs produits qui vont être vendus dans l'empire ? Quelle ville-capitale va profiter de ces échanges ?


- 6) Quelle défense va être construite pour protéger les frontières de l'empire ?

Partie 2 : Une province insérée dans le monde romain : La Gaule

Document 1 : La production de vin en Gaule romaine



Document 2 : Une voie romaine en Gaule



Questions :

- 1) Quelles provinces romaines divisent la Gaule ?

- 2) Quel produit va être beaucoup vendu à Rome ?

- 3) Quels fleuves vont structurer la production de vin ?

- 4) Quel autre type de voie permet de favoriser ce commerce ? (Décrire le document 2)

Conclusion : En utilisant la carte de la page 1, compléter la carte ci-dessous et la légende.
 (Travail facultatif).

L'EMPIRE ROMAIN au II^e SIÈCLE
 « Tous les chemins mènent à Rome »

The map shows the Roman Empire in the 2nd century AD, centered on Rome. Major cities and regions are labeled: Rome, Carthage, Carthagène, Narbonne, Lyon, Treves, Rhin, Aquilée, Danube, Byzance, Euphrate, Antiochie, Ephèse, Athènes, and Alexandrie. A scale bar indicates 1000 km. A legend at the bottom identifies symbols: a rectangle for provinces, a circle for cities, an arrow for roads, and a wavy line for rivers. The map includes several empty rectangles for labeling provinces and a wavy line for a river.

1000 km

Province
 Ville
 Route
 Rivière