

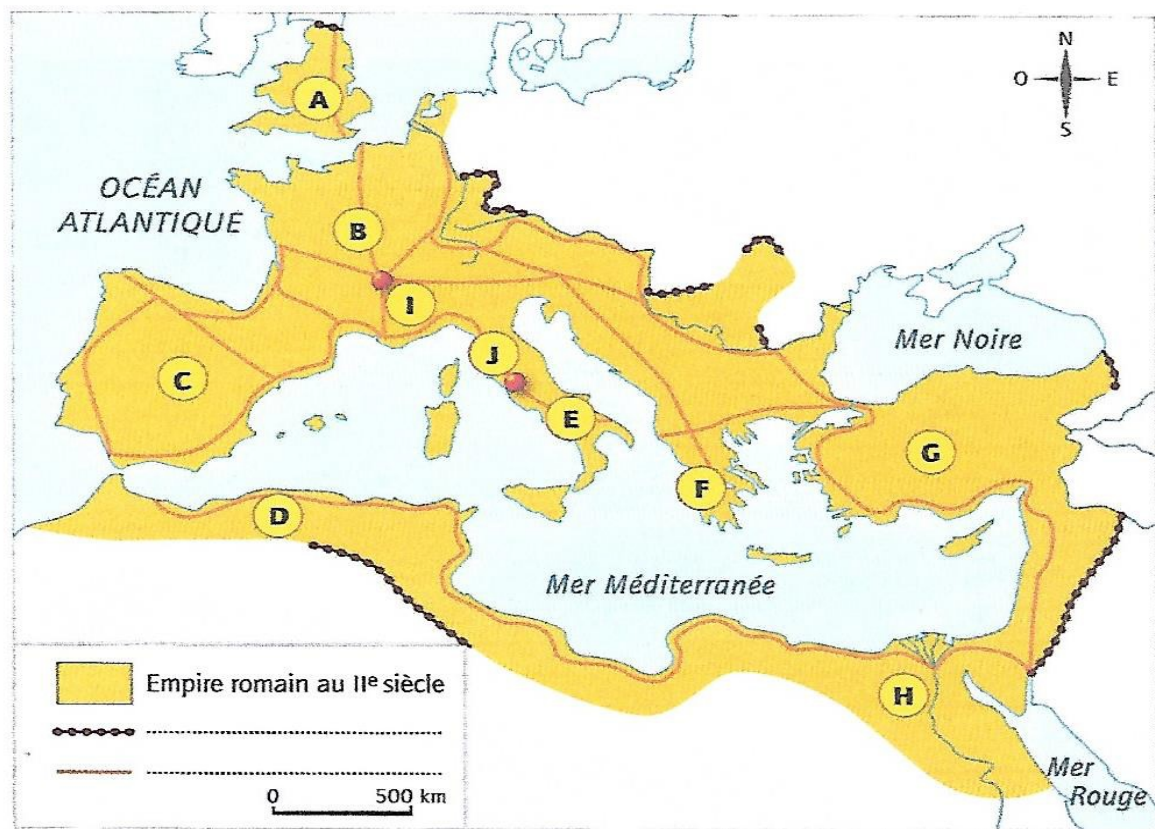
Travail sur l'Empire romain : Les villes romaines sous l'Empire

Introduction : Après la conquête de la Gaule par Jules César et de l'Égypte par Octave-Auguste, Rome va diffuser son modèle urbain dans le monde romain. Des villes « à la mode romaine » sont construites partout dans l'empire romain. Nous allons étudier deux exemples, l'un en Gaule et l'autre en Afrique.

Partie 1 : Exercices de compréhension.

Avant ces études, deux exercices qui reprennent les travaux des semaines précédentes.

Exercice 1 : Le monde romain et ses provinces.



Questions :

1) Indiquez à quelle lettre correspondent les provinces et villes suivantes.

Vous avez la liste ci-après : **Lyon, Gaule, Asie Mineure, Bretagne, Italie, Afrique du nord, Espagne, Grèce, Egypte, Rome**

A:

E :

I :

B:

F :

J :

C:

G :

D:

H :

2) Compléter le légende de la carte ci-dessus. A quoi correspondent ces deux éléments ?

Aide : Vous retrouverez les réponses dans la carte de la semaine dernière sur le commerce romain si vous ne vous en souvenez plus).

Exercice 2 : l'Empereur, un chef aux multiples pouvoirs.

Analyser une pièce de monnaie romaine

Pièce d'or de l'empereur Trajan



- 1) Quel empereur a son visage sur cette pièce d'or ? Quelles sont ses dates de règne ?

2) Complétez le tableau ci-dessous en classant les différents titres que porte l'empereur ? (Ces titres sont autour de la pièce et rappellent les pouvoirs d'Auguste).

Chef militaire	Chef religieux	Chef politique

3) A votre avis, pourquoi l'empereur se fait-il représenter ainsi ?

Partie 2 : L'étude de deux villes romaines : Lyon et Carthage.


Exercice 1 : La création de Lyon = Lugdunum en Gaule.

Lyon, capitale des Gaules

Lyon (*Lugdunum* en latin) est fondée en 43 avant J.-C. L'empereur Auguste en fait la capitale des Gaules. C'est pourquoi, chaque année, des délégués des cités gauloises viennent y célébrer le culte de Rome et de l'empereur. Lyon est aussi un grand et riche carrefour commercial.



• Quelles sont les caractéristiques d'une ville gallo-romaine ?



1 L'odéon et le théâtre de Lyon

Situés sur la colline de Fourvières, le théâtre pouvait accueillir 10 000 personnes et l'odéon 2 500.

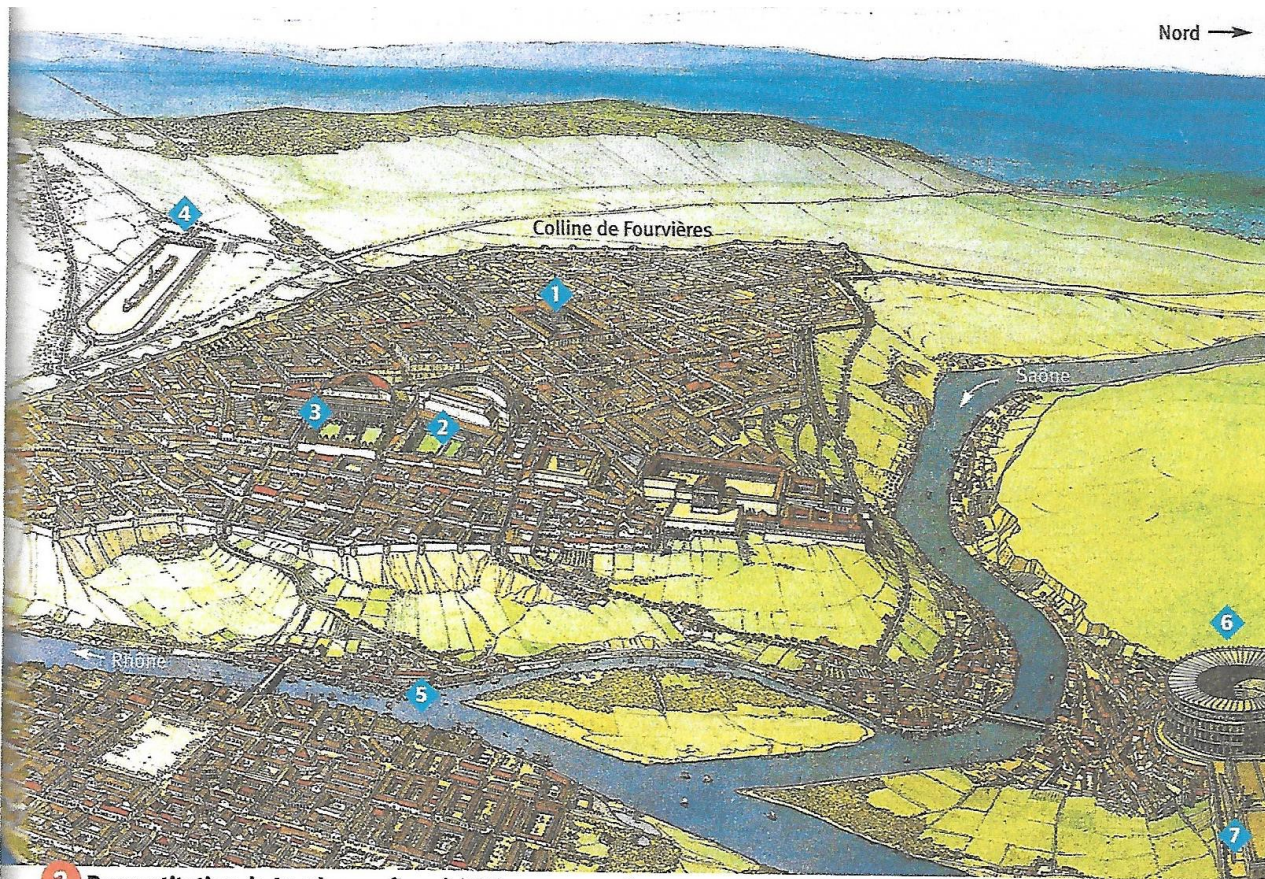
2 L'aqueduc du Gier

Partant du Massif central et long de 85 km, il alimentait en eau les fontaines publiques et les thermes de Lyon.



VOCABULAIRE

- **Aqueduc** : conduite acheminant l'eau vers une ville.
- **Odéon** : édifice destiné aux auditions de musique et de chant.



3 Reconstitution de Lugdunum (Lyon) à l'époque romaine • Dessin de J.-C. Golvin.

(1) Forums ; (2) Théâtre ; (3) Odéon ; (4) Cirque ; (5) Ports ;
(6) Amphithéâtre ; (7) Sanctuaire des Trois Gaules.

4 Un géographe romain décrit Lugdunum

« Lugdunum est bâtie au pied d'une colline, au confluent de la Saône et du Rhône. Elle est au départ des grandes routes, celle de l'Aquitaine, celle du Rhin, celle de l'Océan (la Manche), celle qui conduit en Narbonnaise. La population en est plus nombreuse que celle des autres villes, sauf Narbonne. Lugdunum est une place de commerce et les gouverneurs romains y frappent la monnaie d'argent et d'or. Le sanctuaire, dédié à César Auguste par l'ensemble de tous les Gaulois, est situé en avant de la ville. S'y trouve un autel considérable qui porte inscrits les noms des soixante peuples de la Gaule et des statues personnifiant chacun d'eux. »

D'après STRABON, *Géographie*, I^{er} siècle.

Questions :

- 1) Autour de quels fleuves, la ville de Lyon va-t-elle être fondée ? Quand va-t-elle être fondée ? (Doc 2 et introduction)

- 2) Pourquoi est-ce une ville importante en Gaule ? Quels avantages la ville peut-elle en tirer ? (Doc 4)

- 3) Quel monument montre que Lyon est le grand centre religieux de la Gaule ? (Docs 3 et 4)

- 4) Quels monuments de type romain sont construits à Lyon ? Dessiner chacun des monuments à côté de votre réponse. (Docs 1 et 3)

5) Compléter le tableau sur la fonction de chaque monument : (Docs 1 et 3)

Monument politique	Monument religieux	Monument économique	Monuments de loisir

6) Quel monument va permettre aux Lyonnais d'avoir de l'eau ? Est-un ouvrage important ? Pourquoi ? (Doc 2)


Exercice 2 : Une ville romaine en Afrique : Carthage

Carthage, en Afrique du Nord

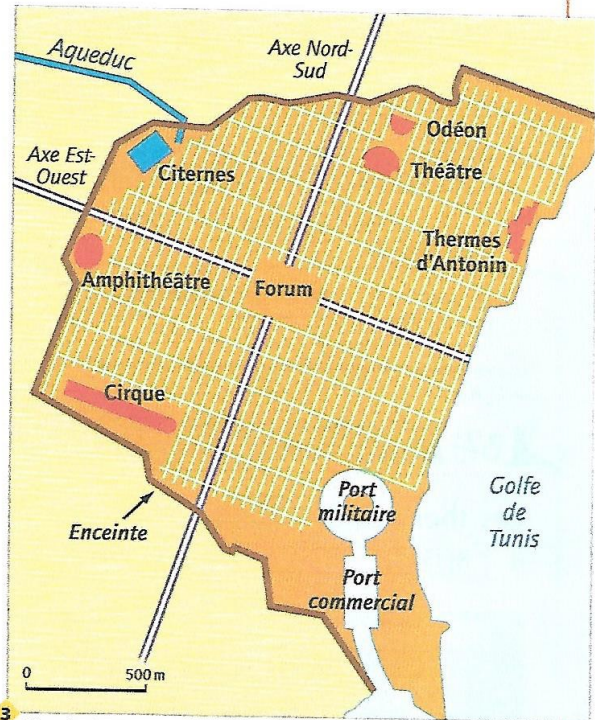
Totalement détruite
par les Romains
en 146 avant J.-C.,
Carthage est refondée
en 27 avant J.-C.
par l'empereur Auguste.
Avec plus de
200 000 habitants,
elle devient rapidement
l'une des plus grandes villes
de l'Empire romain.



1 Les vestiges des thermes de l'empereur Antonin (milieu du II^e siècle)



2 Aux thermes.



3 Plan de Carthage au III^e siècle.

Questions :

1) Dans quelle province de l'Empire romain se situe Carthage ?

